

Nama:

Kelas:

SULIT

1225/1

1225/1
Pendidikan
Moral
Kertas 1
Ogos
2017
2½ jam



MAKTAB RENDAH SAINS MARA

PEPERIKSAAN AKHIR SIJIL PENDIDIKAN MRSM 2017

PENDIDIKAN MORAL

KERTAS 1

Dua jam tiga puluh minit

JANGAN BUKA KERTAS SOALAN INI SEHINGGA DIBERITAHU

1. Kertas soalan ini mengandungi dua bahagian : **Bahagian A** dan **Bahagian B**.
2. Jawab **semua** soalan **Bahagian A** dan dua soalan daripada **Bahagian B**.
3. Jawab semua soalan di dalam kertas soalan.

<i>Untuk Kegunaan Pemeriksa</i>		
Bahagian	Soalan	Markah
A	1	
	2	
	3	
	4	
	5	
	6	
	7	
	8	
B	1	
	2	
	3	
Jumlah		

Kertas soalan ini mengandungi 22 halaman bercetak

1225/1

©2017 Hak Cipta Bahagian Pendidikan Menengah MARA

[Lihat sebelah
SULIT]

BAHAGIAN A

[80 Markah]

Jawab Semua Soalan

1225/1

1. Dialog di bawah merupakan pertualan antara dua orang lepasan siswazah.

SISWAZAH A: Engkau dah dapat kerja?

SISWAZAH B: Aku belum lagi. Buat masa ini aku berniaga produk kesihatan dan kecantikan dalam talian. Saya rasa itu lebih baik daripada duduk di rumah je daripada tak buat apa-apa.

- (a) Siswazah B mengamalkan nilai berdikari. Jelaskan maksud nilai tersebut?

.....
.....

[2 markah]

- (b) Sekiranya anda seorang graduan, terangkan tiga langkah yang boleh diambil untuk mengelakkan diri daripada menganggur.

(i)

(ii)

(iii)

[3 markah]

- (c) Pada pandangan anda, nyatakan faktor yang menyebabkan berlakunya pengangguran dalam kalangan lepasan siswazah.

(i)

(ii)

(iii)

[3 markah]

(d) Nyatakan kebaikan yang anda perolehi apabila berjaya merancang kehidupan dengan baik.

(i)

(ii)

[2 markah]

- (d) Sekiranya anda ternampak jiran anda sedang mendera anaknya, terangkan tindakan yang boleh diambil untuk mengelakkan penderaan tersebut daripada berterusan.

.....

.....

.....

[2 markah]

3. Berikut merupakan jadual pencemaran dan puncanya.

Pencemaran	Punca
Air	Pembuangan sisa toksik
Darat	Pembuangan sampah sarap
Udara	Pelepasan asap

(a) Nyatakan **dua** nilai yang harus diamalkan oleh masyarakat untuk mengatasi masalah pencemaran.

- (i)
- (ii)

[2 markah]

(b) Berikan salah satu definisi yang telah dinyatakan di 3(a).

-
-

[2 markah]

(c) Nyatakan **dua** usaha pihak kerajaan bagi mengatasi masalah pencemaran.

- (i)
- (ii)

[2 markah]

(d) Andaikan anda berada di kawasan yang tercemar, terangkan **dua** kesan negatif yang mungkin anda alami.

- (i)
-
- (ii)
-

[4 markah]

5. Petikan menjelaskan tentang Dasar Wanita Negara



(a) Merujuk Dasar Wanita Negara, berikan hak wanita dalam pembangunan negara?

(i)

(ii)

[2 markah]

(b) Senaraikan **satu** agensi bukan kerajaan yang bertanggungjawab menjaga kebajikan wanita?

.....

[1 markah]

(c) Sekiranya anda temampak wanita diragut, jelaskan tindakan yang boleh diambil.

(i)

.....

.....

(ii)

.....

.....

[4 markah]

(d)

a) Wanita sukar meningkatkan kerjaya mereka berbanding lelaki
b) Wanita terdedah kepada gangguan seksual
c) Masih wujud diskriminasi daripada aspek upah antara pekerja lelaki dan wanita bagi nilai kerja yang sama.

Buktikan bahawa wanita dinegara ini diberi hak yang sama rata dalam pembangunan negara.

- (i)
- (ii)
- (iii)

[3 markah]

7. Gambar mengenai tradisi keluarga pelbagai kaum di Malaysia.



(a) Wajarkah tradisi kekeluargaan seperti di atas dikekalkan oleh generasi sekarang? Berikan alasan anda.

.....

[2 markah]

(b) Jelaskan tradisi kekeluargaan yang masih diamalkan oleh keluarga anda.

- (i)
- (ii)

[2 markah]

(c) Terangkan cara anda mempertahankan tradisi tersebut kepada generasi seterusnya.

- (i)
- (ii)

[2 markah]

1225/1
(d) Ramalkan kesan sekiranya amalan tradisi kekeluargaan tidak dititikberatkan dalam sesebuah keluarga.

(i)

(ii)

(iii)

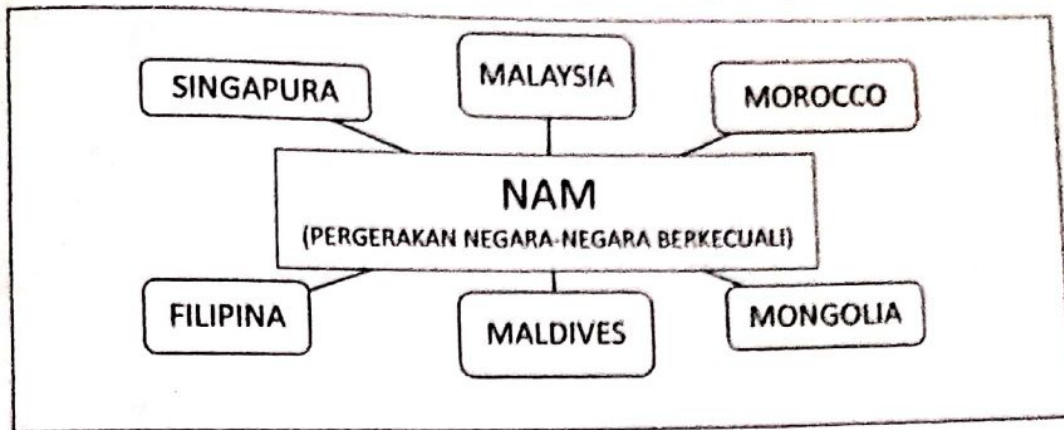
[3 markah]

(e) Namakan badan yang berperanan dalam mengekalkan tradisi kekeluargaan pelbagai kaum.

.....

[1 markah]

6. Gambar di bawah menunjukkan anggota-anggota Pergerakan Negara-negara Berkecuali (NAM).



(a) Berdasarkan maklumat di atas, nyatakan kebaikan yang diperolehi oleh negara-negara yang menganggotai Pergerakan Negara-negara Berkecuali (NAM).

- (i)
-
- (ii)
-

[2 markah]

(b) Cadangkan dua cara menjalinkan hubungan baik dengan negara lain?

- (i)
-
- (ii)
-

[2 markah]

(c) Sekiranya anda mengikuti program pertukaran pelajar ke luar negara, bagaimanakah anda menjaga nama baik negara?

.....

[1 markah]

(d) Ramalkan dua kesan kepada negara sekiranya kerajaan mencampuri urusan dalam negara luar?

(i)

(ii)

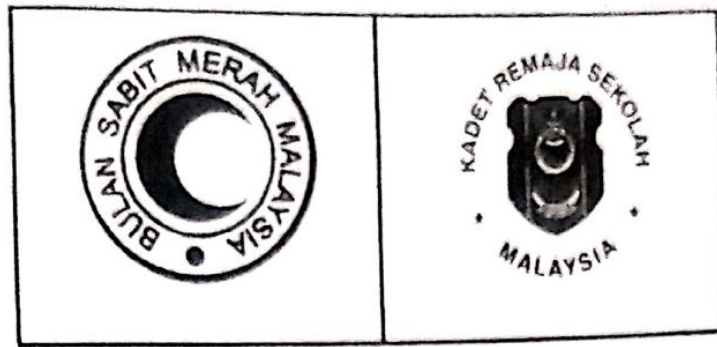
[4 markah]

(e) Apakah rumusan yang dapat anda berikan berdasarkan maklumat di atas?

.....

[1 markah]

8. Rajah di bawah menunjukkan logo badan beruniform di sekolah.



(a) Berikan nilai yang berkaitan dengan gambar di atas?

- (i)
- (ii)

[2 markah]

(b) Selain daripada badan uniform di atas, nyatakan satu badan uniform yang ada di sekolah anda.

.....

[1 markah]

(c) Pernahkah anda melibatkan diri dalam aktiviti sosial? Nyatakan faedah yang anda perolehi?

.....

.....

.....

[3 markah]

Sebagai presiden kelab Rotary, Adriana mencadangkan supaya ahli kelabnya membuat kerja amal di rumah kebajikan kanak-kanak pada hari Sabtu setiap minggu.

(d) Setujukah anda dengan cadangan Adriana? Berikan hujah anda.

.....
.....
.....
.....

[4 markah]

BAHAGIAN B

[20 Markah]

Jawab dua soalan sahaja.

9. Maklumat berikut berkaitan dengan kemalangan maut.

LAPAN REMAJA BERBASIKAL MAUT DILANGGAR KERETA

18 Feb 2017 - Lapan remaja lelaki maut manakala lapan lagi cedera termasuk dua kritikal apabila basikal dinaiki mereka dirempuh sebuah kereta di Jalan Lingkaran Dalam, bersebelahan Tanah Perkuburan Mahmoodiah, dekat Johor Bahru awal pagi tadi.

Sumber : <http://www.malaysiakini.com/news>

Berdasarkan situasi di atas, nyatakan pengajaran yang boleh anda perolehi. Huraikan hujah anda berdasarkan nilai-nilai murni yang dipelajari.

[10 markah]

.....

.....

.....

.....

.....

.....

.....

.....

.....

.....

.....

.....

10. Gambar di bawah menunjukkan kerjasama antara negara.



Kerjasama politik, ekonomi dan sosial antara negara amat penting untuk memastikan keamanan sejagat. Terangkan nilai-nilai yang harus diamalkan untuk memastikan hasrat tersebut tercapai.

[10 markah]

.....

.....

.....

.....

.....

.....

.....

.....

.....

.....

.....

.....

.....

.....

.....

.....

.....

.....

.....

.....


.....

.....

.....

.....

11. Gambar berkaitan dengan keindahan alam sekitar.



Berdasarkan gambar-gambar di atas, jelaskan cara anda untuk menjaga keindahan alam sekitar daripada tercemar berdasarkan nilai-nilai murni yang telah dipelajari.

[10 markah]

.....

.....

.....

.....

.....

.....

.....

.....

.....

.....

.....